

Họ và tên:.....

Lớp:.....

BÀI TẬP 1 ÔN MÔN TOÁN

Bài 1: Nối số với phép tính thích hợp

50

$$26 + 16$$

$$38 + 12$$

42

$$19 + 21$$

Bài 2: Nối số với phép tính thích hợp

51

$$36 + 5$$

$$43 + 8$$

43

$$15 + 28$$

Bài 3: Kết quả đúng của phép tính: $38 - 15 = ?$

A. 23

B. 24

C. 13

Bài 4: Kết quả đúng của phép tính: $37 + 5 = ?$

A. 41

B. 32

C. 42

Bài 5: Kết quả đúng của phép tính : $67 + 28 = ?$

A. 94

B. 95

C. 96

Bài 6: Đúng ghi Đ, sai ghi S vào ô trống:

* Các số 71, 65, 52, 80, 49, 89 viết theo thứ tự từ lớn đến bé là:

A. 52, 49, 65, 71, 89, 80

B. 49, 52, 65, 71, 80, 89

C. 89, 80, 71, 65, 52, 49

Bài 7: Đúng ghi Đ, sai ghi S vào ô trống:

* Các số tròn chục lớn hơn 30 và bé hơn 80 là:

A. 40, 50, 60, 70

B. 40, 50, 60, 70, 80

C. 30, 40, 50, 60, 70

Bài 8: Khoanh tròn chữ đặt trước kết quả đúng của phép tính sau : $6 + 4 + 5 =$

A. 16

B. 15

C. 14

Bài 9: Khoanh tròn chữ đặt trước kết quả đúng của phép tính : $9 + 3 + 4 =$

A. 15

B. 16

C. 17

Bài 10: Một sợi dây điện dài 36 dm, đã cắt đi 20 dm để dùng. Hỏi sợi dây còn lại bao nhiêu đề xi mét ?

Khoanh tròn chữ đặt trước cách tính có kết quả đúng.

A. $36 + 20 = 56$ (dm)

B. $36 - 20 = 16$ (dm)

C. $36 - 20 = 26$ (dm)

Bài 11: Nhà Minh có 15 con gà, nhà Hà có 12 con gà. Hỏi cả hai nhà có bao nhiêu con gà ?

Khoanh tròn chữ đặt trước cách tính có kết quả đúng.

A. $15 - 12 = 3$ (con gà)

B. $15 + 12 = 28$ (con gà)

C. $15 + 12 = 27$ (con gà)

Bài 12: Năm nay em lên 8 tuổi. Anh hơn em 6 tuổi. Hỏi năm nay anh bao nhiêu tuổi ?

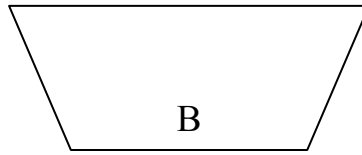
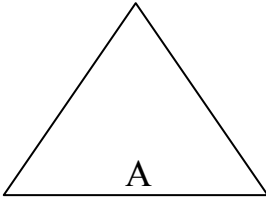
Khoanh tròn chữ đặt trước cách tính có kết quả đúng.

A. $8 + 6 = 14$ (tuổi)

B. $8 + 6 = 13$ (tuổi)


C. $8 + 6 = 15$ (tuổi)

Bài 13: Khoanh tròn chữ ghi trong hình là hình tứ giác



Bài 14: Hình bên có mấy hình chữ nhật

- A. Có 3 hình chữ nhật
- B. Có 4 hình chữ nhật
- C. Có 5 hình chữ nhật
- D. Có 6 hình chữ nhật



Bài 15: Nhà Đạt có 19 quả trứng gà, hôm nay gà nhà Đạt đẻ thêm 4 quả nữa. Hỏi hiện tại nhà Đạt có tất cả bao nhiêu quả trứng gà ?

Bài 16: Nam có 36 nhãn vở. Hà có 24 nhãn vở. Hỏi cả hai bạn có bao nhiêu nhãn vở ?

Bài 17: Bình có một số viên bi, Bình cho Nga 5 viên bi thì Bình còn 19 viên bi. Hỏi lúc đầu Bình có bao nhiêu viên bi ?

