

BÀI TẬP THỨ HAI NGÀY 30/3/2020

Họ và tên:.....

Lớp:.....

BÀI TẬP 1 TOÁN LỚP 5

1. Đặt tính rồi tính:

a) $25,67 - 16$

b) $5,25 + 91$

.....
.....
.....

c) $3,48 \times 25$

d) $89 : 25$

.....
.....
.....
.....
.....

2. Tính nhẩm:

$3,68 : 10 =$

$25,71 \times 0,01 =$

$675 : 100 =$

$77,25 \times 0,1 =$

$45,78 : 1000 =$

$256 \times 0,001 =$

3. Tìm các số tự nhiên x , biết:

a) $2,05 > x$

b) $7,8 < x < 10$

Các số tự nhiên x cần tìm là

Các số tự nhiên x cần tìm là

4. Nam mua 3 quyển vở hết số tiền là 21000 đồng. Hỏi nếu Nam mua 12 quyển vở cùng loại thì hết bao nhiêu tiền?

Bài giải

.....
.....
.....
.....
.....

.....
.....
.....

5. Tính diện tích của hình tròn có chu vi là 16,956 cm.

Bài giải

.....
.....
.....
.....
.....

BÀI TẬP THỨ BA NGÀY 31/3/2020

Họ và tên:.....

Lớp:.....

BÀI TẬP 2 TOÁN LỚP 5

1. Tính giá trị biểu thức:

a) $33,88 - (12,88 : 5,6) + 1,42$

=.....

=.....

=.....

b) $(33,88 - 12,88) : 5,6 + 1,42$

=.....

=.....

=.....

2. Tìm x:

a) $12,25 : x - 0,56 = 2,94$

b) $46,7 : (10 - x) = 9,34$

.....

.....

.....

.....

3. Viết các số đo sau dưới dạng số thập phân:

$245 \text{ m}^2 = \dots\dots\dots \text{ dam}^2$

$1995 \text{ cm}^2 = \dots\dots\dots \text{ m}^2$

$2020 \text{ m} = \dots\dots\dots \text{ km}$

$432 \text{ dm} = \dots\dots\dots \text{ dam}$

$561 \text{ g} = \dots\dots\dots \text{ tạ}$

$25 \text{ kg} = \dots\dots\dots \text{ tấn}$

4. Khoanh vào chữ cái trước câu trả lời đúng:

Biết 75% của một bao gạo là 37,5 kg gạo . Hỏi $\frac{3}{5}$ bao gạo đó là bao nhiêu kg?

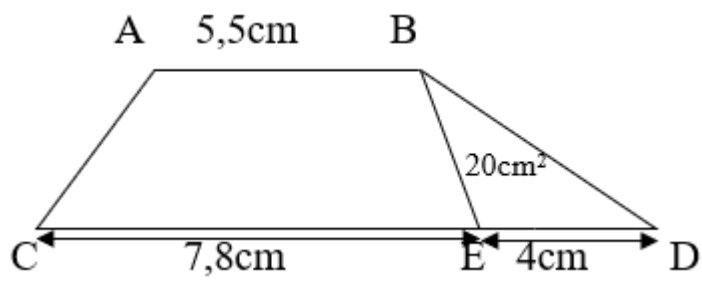
A. 50kg

B. 1,5 kg

C. 15 kg

D. 30kg

5. Tính diện tích hình thang ABCD (hình vẽ)



.....

.....

.....

.....

.....

.....

.....

.....

BÀI TẬP THỨ TƯ NGÀY 01/4/2020

Họ và tên:.....

Lớp:.....

BÀI TẬP 3 TOÁN LỚP 5

1. Khoanh tròn vào chữ cái đặt trước câu trả lời đúng

Giá trị của biểu thức $34,56 \times 25,75 + 34,56 \times 73,25 + 34,56$ được tính là :

A. $34,56 \times (25,75 + 73,25)$

B. $34,56 + (25,75 + 73,25)$

C. $34,56 \times (25,75 + 73,25+1)$

D. $34,56 + (25,75 + 73,25 +1)$

2. Đặt tính rồi tính:

a/ $41,3 \times 3,06$

b/ $15,3 \times 28$

c/ $365,8 : 62$

d/ $70,56 : 11,2$

.....
.....
.....
.....
.....
.....
.....

3. Viết phép tính và kết quả vào chỗ trống:

Một hình tròn có bán kính là 1,4 cm.

a) Đường kính hình tròn là:.....

b) Chu vi hình tròn là:.....

c) Diện tích hình tròn là:.....

4. Một hình hộp chữ nhật có chiều dài 18 cm, chiều rộng 15cm, chiều cao 10cm. Tính diện tích xung quanh và diện tích toàn phần của hình hộp chữ nhật đó.

.....
.....
.....
.....
.....

5. Một thửa ruộng hình thang có đáy lớn 25,5 m; đáy bé kém đáy lớn 1m; chiều cao bằng trung bình cộng hai đáy. Tính diện tích thửa ruộng hình thang đó?

.....

.....

.....

.....

.....

.....

.....

.....

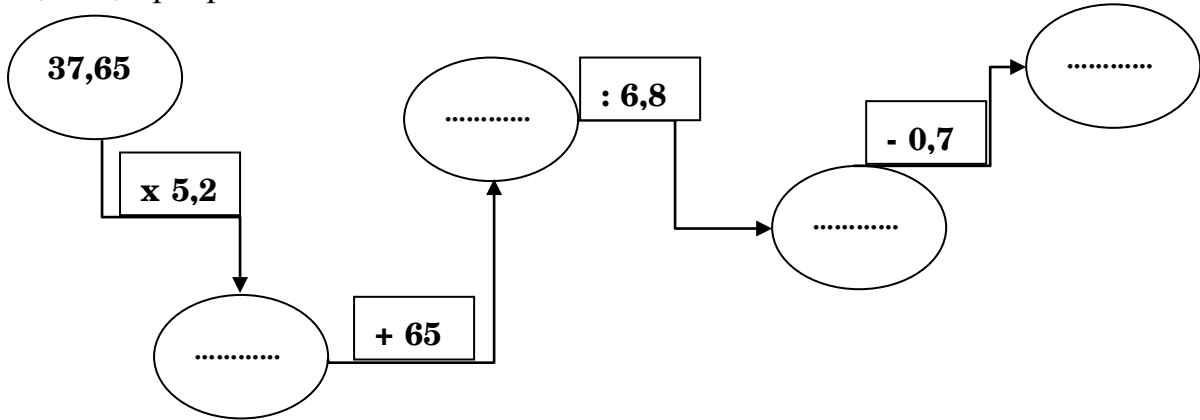
BÀI TẬP THỨ NĂM NGÀY 02/4/2020

Họ và tên:.....

Lớp:.....

BÀI TẬP 4 TOÁN LỚP 5

1. Thực hiện phép tính rồi điền vào chỗ chấm:



2. Một lớp có 30 học sinh, trong đó có 12 học sinh nam. Tìm tỉ số phần trăm của số học sinh nữ và số học sinh cả lớp.

- A. 18% B. 30% C. 40% D. 60%.

3. Tìm y : a) $y : \frac{5}{6} = \frac{4}{5} + \frac{4}{10}$ b) $(y + \frac{7}{3}) : 3 = \frac{5}{3}$

.....

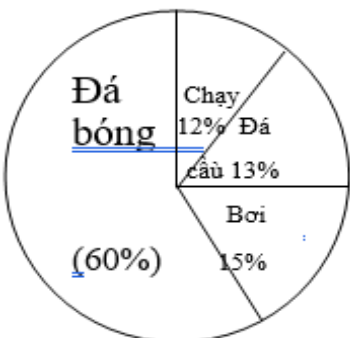
.....

.....

.....

.....

4. Kết quả điều tra về sở thích đối với một số môn thể thao của 100 học sinh lớp 5 được thể hiện trên biểu đồ hình quạt bên. Hỏi số học sinh thích đá bóng nhiều hơn số học sinh thích đá cầu là bao nhiêu em?



.....

.....

.....

.....

.....

5. Nhà Bác Nam được thôn chia một thửa ruộng hình thang, có hai đáy lần lượt là 77m và 55m; chiều cao thửa ruộng bằng trung bình cộng của hai đáy. Bác Nam trồng ngô trên thửa ruộng đó. Đến mùa thu hoạch, trung bình mỗi mét vuông thửa ruộng thu hoạch được 0,7 kg ngô. Hỏi bác Nam thu hoạch được bao nhiêu ki-lô-gam ngô trên cả thửa ruộng đó?

Bài giải

.....

.....

.....

.....

.....

.....

.....

.....

BÀI TẬP THỨ SÁU NGÀY 03/4/2020

Họ và tên:.....

Lớp:.....

BÀI TẬP 5 TOÁN LỚP 5

1. Viết số thích hợp vào chỗ trống:

a) $7,61 \text{ kg} = \dots\dots\dots \text{ g}$

b) $325,4 \text{ yên} = \dots\dots\dots \text{ tấn}$

c) $36,6 \text{ hm}^2 = \dots\dots\dots \text{ m}^2$

d) $1526 \text{ g} = \dots\dots\dots \text{ kg}$

e) $15\text{m } 6\text{cm} = \dots\dots\dots \text{ dm}$

g) $45,67 \text{ m}^2 = \dots\dots \text{ m}^2 \dots\dots \text{ dm}^2$

2. Nối các biểu thức với giá trị của biểu thức đó:

$9,6 \times 2,4 \times 0,25$

$9,6 \times 2,4 : 0,25$

$9,6 : 2,4 : 0,25$

92,16

1

5,76

16

$9,6 : 0,25 \times 2,4$

$9,6 : 0,25 : 2,4$

$9,6 : 2,4 \times 0,25$

3. Tìm x:

a) $x \times 2,4 : 2,5 = 1,44$

b) $x : 2,4 : 2,5 = 1,44$

.....
.....
.....
.....
.....

4. Một chiếc khăn quàng đỏ hình tam giác có tổng độ dài đáy và chiều cao bằng 80cm. Chiều cao bằng 25% độ dài đáy. Tính diện tích chiếc khăn quàng đỏ đó.

Bài giải

.....
.....
.....
.....
.....
.....
.....
.....

.....
.....

5. Một căn phòng dạng hình hộp chữ nhật có chiều dài 6m, chiều rộng 3,6m và chiều cao 3,8m. Người ta muốn quét vôi vào các bức tường xung quanh và trần của căn phòng đó. Hỏi diện tích cần quét vôi là bao nhiêu mét vuông, biết tổng diện tích các cửa bằng 8m^2 . (chỉ quét bên trong phòng)

Bài giải

.....
.....
.....
.....
.....
.....
.....

Đáp số :