

Họ và tên:.....

Lớp:.....

BÀI TẬP 1 ÔN MÔN TOÁN

A. PHẦN TRẮC NGHIỆM

Khoanh vào chữ cái đặt trước kết quả đúng và hoàn thành tiếp các bài tập sau:

Câu 1: Số chín trăm mười hai viết là:

A. 92

B. 902

C. 912

Câu 2: Cho số bé là 5, số lớn là 35. Hỏi số lớn gấp mấy lần số bé?

A. 8 lần

B. 7 lần

C. 9 lần

Câu 3: Số bé nhất có 3 chữ số khác nhau là:

A. 102

B. 101

C. 123

Câu 4: Giá trị của biểu thức $840 : (2 + 2)$ là:

A. 210

B. 220

C. 120

B. PHẦN TỰ LUẬN

Bài 1: Đặt tính rồi tính

$$5573 + 3128$$

$$8728 - 6245$$

$$172 \times 4$$

$$798 : 7$$

.....

.....

.....

.....

.....

.....

.....

Bài 2: Tìm x biết:

a. $90 : x = 6$

b. $x : 5 = 83$

.....

.....

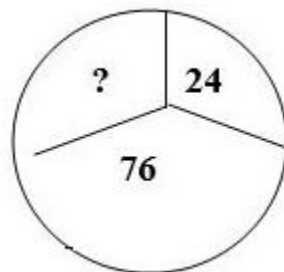
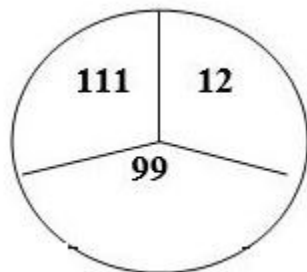
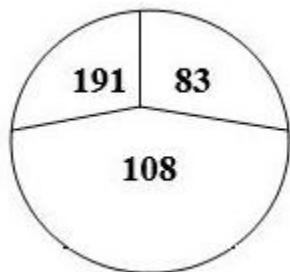
Bài 3: (2 điểm) Người ta xếp 100 cái bánh vào các hộp, mỗi hộp có 5 cái. Sau đó xếp các hộp vào thùng mỗi thùng 4 hộp. Hỏi có bao nhiêu thùng bánh?

.....

.....

.....
.....
.....
.....

Bài 4: Xét quan hệ các số trong một hình tròn sau rồi điền số thích hợp vào chỗ dấu chấm hỏi?



.....
.....
.....
.....
.....
.....

Họ và tên:.....

Lớp:.....

BÀI TẬP 2 ÔN MÔN TOÁN

I/ Phần trắc nghiệm:

Khoanh tròn vào đáp án đúng

1) Giá trị biểu thức: $789 - 45 + 55$ là:

A. 100

B. 799

C. 744

D. 689

2) Giá trị biểu thức: $930 - 18 : 3$ là:

A. 924

B. 304

C. 6

D. 912

3) $7\text{m } 3\text{ cm} = \dots\dots\dots \text{ cm}$:

A. 73

B. 703

C. 10

D. 4

4) Có 750 quyển sách xếp đều vào 5 tủ, mỗi tủ có 2 ngăn. Hỏi mỗi ngăn có bao nhiêu quyển sách, biết rằng mỗi ngăn có số sách như nhau?

A. 75 quyển

B. 30 quyển

C. 60 quyển

D. 125 quyển

5) Có 7 con vịt, số gà nhiều hơn số vịt 56 con. Hỏi số vịt bằng một phần mấy số gà?

A. $\frac{1}{2}$

B. $\frac{1}{9}$

C. $\frac{2}{3}$

D. $\frac{1}{6}$

6) Một chiếc bìa hình chữ nhật có chiều dài 25 dm, chiều rộng 1dm. Chu vi miếng bìa đó là bao nhiêu đề – xi – mét?

A. 52dm

B. 70cm

C. 7dm

D. 70 dm

7) Hình vẽ dưới đây có mấy góc vuông?



A. 1

B. 2

C. 3

D. 4

8) $8 \times 7 < \dots \times 8$

A. 7

B. 5

C. 8

D. 6

II/ Phần tự luận

Bài 1: Tính giá trị của biểu thức:

$267 + 125 - 278$

.....
.....

$538 - 38 \times 3$

.....
.....

Bài 2. Tìm x:

$x : 7 = 100 + 8$

.....
.....

$x \times 7 = 357$

.....
.....

Bài 3:

Một cửa hàng có 453 kg gạo, đã bán được $\frac{1}{3}$ số gạo đó. Hỏi cửa hàng còn lại bao nhiêu ki- lô- gam gạo?

.....
.....
.....
.....
.....
.....